



京都成章高等学校
令和8年度 入学試験問題
社 会

受 験 番 号	氏 名

1. 世界地理に関する下の問(1)~(7)に答えなさい。

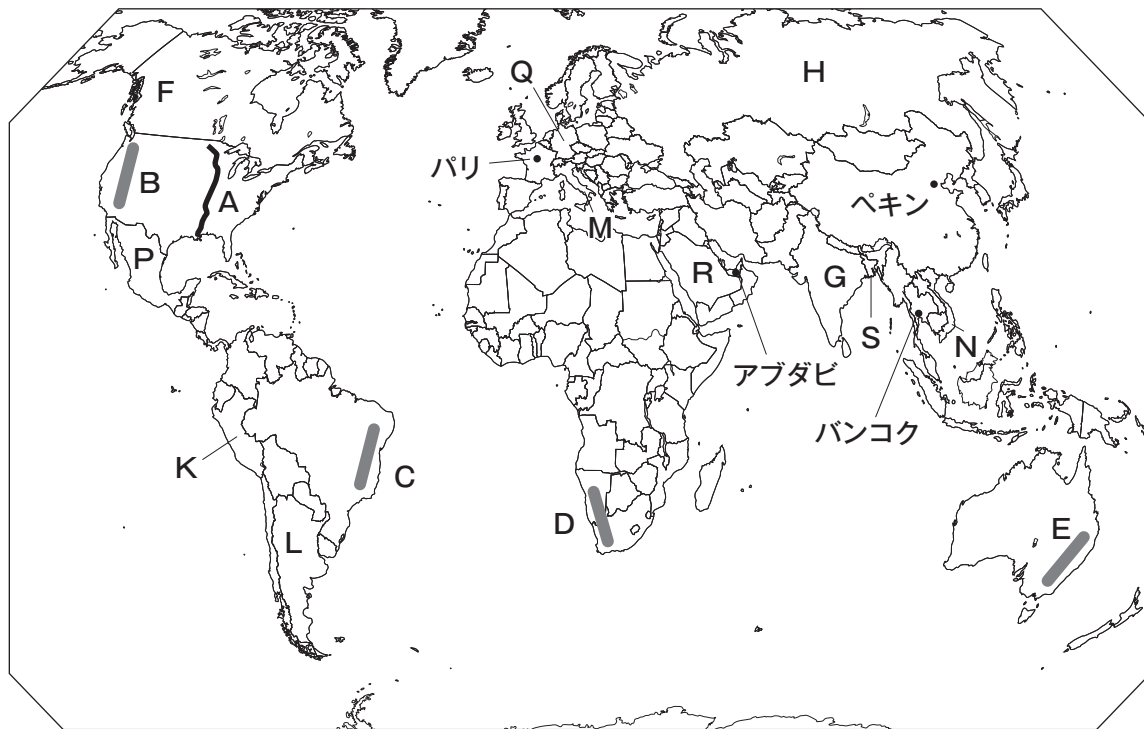


図1

(1) 図1中のA川の名称を、下の(ア)~(エ)から一つ選び、記号で答えなさい。

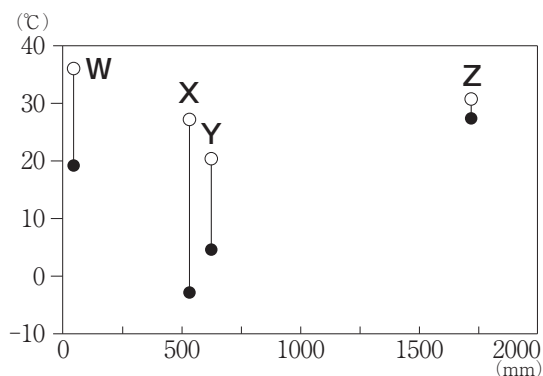
- (ア) ナイル川 (イ) ドナウ川 (ウ) ミシシッピ川 (エ) アマゾン川

(2) 図1中のB~Eの中で、火山活動が最も活発な地域を、下の(ア)~(エ)から一つ選び、記号で答えなさい。

- (ア) B (イ) C (ウ) D (エ) E

(3) 右のグラフのW~Zは、図1中のパリ、アブダビ、バンコク、ペキン（北京）のいずれかの都市の年降水量と、最も暖かい月の平均気温、最も寒い月の平均気温を示したものである。ペキンにあてはまるものを、下の(ア)~(エ)から一つ選び、記号で答えなさい。

- (ア) W (イ) X (ウ) Y (エ) Z



○ 最も暖かい月の平均気温 ● 最も寒い月の平均気温
気象庁のホームページのデータより作成

- (4) 次の表は、**図1**中の**F**～**H**の国の人口と国民総所得（GNI）を示したものである。1人当たりの国民総所得を低い順に左から右に並べたものとして正しいものを、下の**(ア)**～**(カ)**から一つ選び、記号で答えなさい。

	人口	国民総所得
F	3930万人	2兆1333億ドル
G	14億3807万人	3兆3074億ドル
H	1億4544万人	2兆2190億ドル

統計年次は人口が2023年、国民総所得が2022年、
「データブック オブ・ザ・ワールド2025年版」より作成

- (ア) F-G-H** **(イ) F-H-G** **(ウ) G-F-H**
(エ) G-H-F **(オ) H-F-G** **(カ) H-G-F**
- (5) **図1**中の**G**と**H**の国で最も多くの人々に信仰されている宗教の正しい組み合わせを、下の**(ア)**～**(カ)**から一つ選び、記号で答えなさい。

	(ア)	(イ)	(ウ)	(エ)	(オ)	(カ)
G	イスラム教	イスラム教	仏教	仏教	ヒンドゥー教	ヒンドゥー教
H	キリスト教	イスラム教	キリスト教	イスラム教	キリスト教	イスラム教

- (6) 次の文は、**図1**中の**K**～**N**のいずれかの国の農牧業について述べたものである。**L**にあてはまる文を、下の**(ア)**～**(エ)**から一つ選び、記号で答えなさい。
- (ア)** 米の生産と輸出がさかんである。コーヒーの生産量は世界第2位である。
(イ) 小麦の栽培や肉牛の放牧がさかんである。近年は大豆の生産量が増えている。
(ウ) オリーブやブドウなど、夏の高温と乾燥に強い果樹栽培がさかんである。
(エ) 標高の高い地域でジャガイモを栽培し、リヤマやアルパカを飼育している。
- (7) 次の文は**図1**中の**P**～**S**のいずれかの国の工業に述べたものである。次の文にあてはまる国を、下の**(ア)**～**(エ)**から一つ選び、記号で答えなさい。

ミシンなどを使って衣料品を縫う縫製業が成長しており、総輸出額に占める衣類の割合が8割を超えている。

- (ア) P** **(イ) Q** **(ウ) R** **(エ) S**

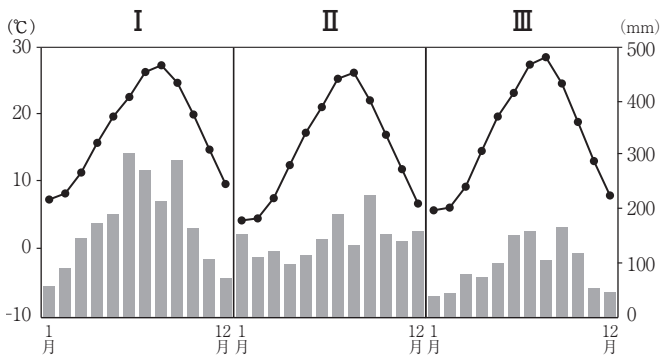
2. 日本地理（北海道と沖縄県を除く）に関する下の問(1)～(11)に答えなさい。



図2

一部の島は省略している。

(1) 次のⅠ～Ⅲは図2に示した鳥取県倉吉市、香川県高松市、高知県安芸市のいずれかの都市の雨温図である。Ⅰ～Ⅲにあてはまる都市名の正しい組み合わせを、下の(ア)～(カ)から一つ選び、記号で答えなさい。



	Ⅰ	Ⅱ	Ⅲ
(ア)	倉吉市	高松市	安芸市
(イ)	倉吉市	安芸市	高松市
(ウ)	高松市	倉吉市	安芸市
(エ)	高松市	安芸市	倉吉市
(オ)	安芸市	倉吉市	高松市
(カ)	安芸市	高松市	倉吉市

気象庁ホームページのデータより作成

(2) 図2中のA～Dの中で、リアス海岸がみられないものを、下の(ア)～(エ)から一つ選び、記号で答えなさい。

(ア) A (イ) B (ウ) C (エ) D

(3) 図2中のEとFの島の名称の正しい組み合わせを、下の(ア)～(カ)から一つ選び、記号で答えなさい。

	(ア)	(イ)	(ウ)	(エ)	(オ)	(カ)
E	対馬	対馬	隠岐諸島	隠岐諸島	佐渡島	佐渡島
F	隠岐諸島	佐渡島	対馬	佐渡島	対馬	隠岐諸島

(4) 次の4つの文は、図2中のG～Jのいずれかの地域で2010年代に発生した災害について述べたものである。図2中のHで発生した災害について述べた文を、下の(ア)～(エ)から一つ選び、記号で答えなさい。

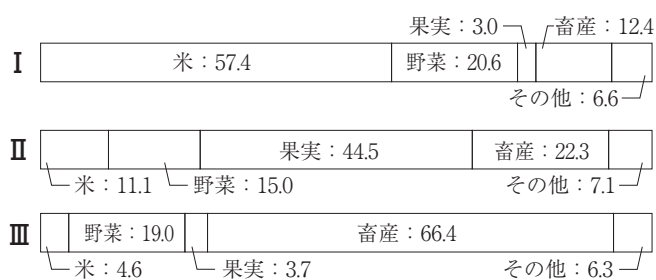
(ア) 2011年3月に発生した地震により発生した津波によって多くの建物が流された。

(イ) 2014年9月に発生した火山の噴火による噴出物によって登山客が被害を受けた。

(ウ) 2016年4月に震度7の地震が発生して多くの民家が倒壊し、城の石垣の一部が崩落した。

(エ) 2018年7月の集中豪雨によって河川の水があふれて多くの家屋が浸水した。

(5) 次の帯グラフのI～IIIは、図2中のK～Mのいずれかの県の農業産出額に占める米、野菜、果実、畜産の割合を示したものである。I～IIIにあてはまる県の正しい組み合わせを、下の(ア)～(カ)から一つ選び、記号で答えなさい。



	(ア)	(イ)	(ウ)	(エ)	(オ)	(カ)
I	K	K	L	L	M	M
II	L	M	K	M	K	L
III	M	L	M	K	L	K

単位：% 統計年次は2021年

「データでみる県勢 2024」より作成

- (6) 次の文章は、**図2**中の**P**～**S**のいずれかの県の農業について述べたものである。この文章にあてはまる県を、下の**(ア)**～**(エ)**から一つ選び、記号で答えなさい。

都道府県別の果実の農業産出額が第1位である。稲作も行われているが冷害によって米の生産量が減少することがある。ニンニクとゴボウの生産量は第1位である。

(ア) P **(イ) Q** **(ウ) R** **(エ) S**

- (7) 次の表は、都道府県別の海面漁業の漁獲量の上位7都道府県の漁獲量と主な漁港を示したものである。表中の**I**～**III**は**図2**中の**X**～**Z**のいずれかの県である。**I**～**III**にあてはまる県の正しい組み合わせを、下の**(ア)**～**(カ)**から一つ選び、記号で答えなさい。

順	都道府県	漁獲量	主な漁港
1	北海道	910347	釧路、根室
2	茨城県	299686	波崎、大津
3	長崎県	247359	松浦、長崎
4	I	206869	焼津、清水
5	II	184316	石巻、気仙沼
6	三重県	107377	奈屋浦、白子
7	III	105505	銚子、勝浦

	(ア)	(イ)	(ウ)	(エ)	(オ)	(カ)
I	X	X	Y	Y	Z	Z
II	Y	Z	X	Z	X	Y
III	Z	Y	Z	X	Y	X

単位：トン、統計年次は2021年
「データでみる県勢 2024」などより作成

- (8) **図2**中の**K**、**L**、**M**、**S**の中で、原子力発電所が立地していない県を、下の**(ア)**～**(エ)**から一つ選び、記号で答えなさい。

(ア) K **(イ) L** **(ウ) M** **(エ) S**

- (9) 世界遺産に登録されている次の施設や地域の中で、所在地の都道府県が隣接していない（陸続きで接していない）ものを、下の**(ア)**～**(オ)**から一つ選び、記号で答えなさい。

- (ア)** 巖島神社－石見銀山
(イ) 白川郷－五箇山
(ウ) 法隆寺－姫路城
(エ) 富岡製糸場－日光東照宮
(オ) 平泉－白神山地

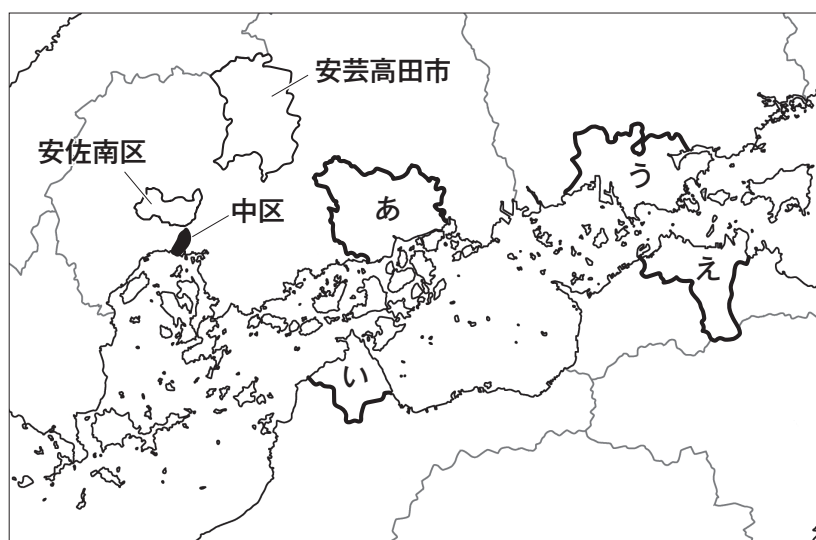


図3

- (10) 図3のあといは、しまなみ海道で結ばれた地域、うとえは、瀬戸大橋で結ばれた地域を示したものである。また次の2つの文は、あ～えのいずれかの地域でみられる工業について述べたものである。2つの文にあてはまる地域の正しい組み合わせを、下の(ア)～(カ)から一つ選び、記号で答えなさい。

- ・造船業がさかんであるが、現在は高い技術を生かした高品質のタオルも製造している。
- ・石油化学コンビナートが立地するが、古くから学校の制服やジーンズが製造されている。

- (ア) あ-い (イ) あ-う (ウ) あ-え
 (エ) い-う (オ) い-え (カ) う-え

- (11) 次の表は、図3中に示した3つの市区の人口増減率（2015～2020年）、老年人口率（2020年）、昼夜間人口指数（夜間人口100人に対する昼間人口の人数、2020年）を示したものであり、表中のⅠ～Ⅲは、広島市役所がある広島市中区、広島市安佐南区、島根県に隣接する安芸高田市のいずれかである。表中のⅠ～Ⅲにあてはまる市区の正しい組み合わせを、下の(ア)～(カ)から一つ選び、記号で答えなさい。

	人口増減率	老年人口率	昼夜間人口指数
Ⅰ	4.4%	24.4%	168.6
Ⅱ	1.9%	21.4%	85.3
Ⅲ	-10.3%	42.0%	104.7

国勢調査より作成

	Ⅰ	Ⅱ	Ⅲ
(ア)	中区	安佐南区	安芸高田市
(イ)	中区	安芸高田市	安佐南区
(ウ)	安佐南区	中区	安芸高田市
(エ)	安佐南区	安芸高田市	中区
(オ)	安芸高田市	中区	安佐南区
(カ)	安芸高田市	安佐南区	中区

3. 次のA～Gの各文章を読み、下の問(1)～(7)に答えなさい。

- A 織田信長は、東海地方を支配する今川義元を の戦いで破り、「天下布武」という武力による全国統一の意志を表明した。
- B 大伴家持がまとめたとされる『』には、柿本人麻呂や山上憶良などの歌人や農民、防人が作った和歌も収められた。
- C 天武天皇の死後、皇后の持統天皇が即位し、日本で初めての本格的な都である が造られた。
- D ヤマト王権の王ワカタケルが、「大王」を名乗って、鉄剣や鉄刀を関東や九州の豪族に与えた。その例に、熊本県の 古墳出土の鉄刀などがある。
- E ^(a)徳川吉宗は、幕府の財政の立て直しに取り組んだ。このような吉宗の政策は、 の改革と呼ばれた。
- F 足利義満は、南北朝を統一して内乱を終わらせた。
- G 小右記に載っている「この世をばわが世とぞ思ふ望月の欠けたることもなしと思へば」は、 がよんだ歌である。

(1) 文章中の空欄 ～ にあてはまる語句を答えなさい。

(2) Cの時代のできごとについて述べた文として正しいものを、下の(ア)～(エ)から一つ選び、記号で答えなさい。

- (ア) 百済を支援するため大軍を送り、唐・新羅の連合軍と戦った。
- (イ) 坂上田村麻呂を征夷大將軍とする軍が蝦夷の拠点を攻め、東北地方への支配を広げた。
- (ウ) 墾田永年私財法を定めて、新たな開墾地であれば永久に所有してもよいと認めた。
- (エ) 朝貢形式による日明貿易は、正式な貿易船には勘合を与えられたので勘合貿易と呼ばれた。

(3) 下線部(a)が実施した政策として誤っているものを、下の(ア)～(エ)から一つ選び、記号で答えなさい。

- (ア) 参勤交代を軽減する代わりに米を献上させる上米の制を実施した。
- (イ) 学問を奨励し、湯島に孔子をまつる聖堂を建てて儒学を奨励した。
- (ウ) 裁判や刑の基準を定めた公事方御定書を制定した。
- (エ) 庶民の意見を取り入れる目安箱を設置した。

- (4) Fの時代の幕府の役職として正しいものを、下の(ア)~(エ)から一つ選び、記号で答えなさい。
(ア) 管領 (イ) 関白 (ウ) 国博士 (エ) 老中
- (5) Gの時代の文化について述べた文として正しいものを、下の(ア)~(エ)から一つ選び、記号で答えなさい。
(ア) 兼好法師が『徒然草』を著した。
(イ) 地名の由来、伝承、産物などをまとめた『風土記』が作られた。
(ウ) 葛飾北斎が『富嶽三十六景』を描いた。
(エ) 紫式部が『源氏物語』を著した。
- (6) 次の史料は、A~Gのどの時代のものか、A~Gの記号で答えなさい。
「天平15年10月15日をもって、^{るしゃなぶつ}盧舎那仏の金剛像一体をお造りすることとする。」(現代語訳)
- (7) A~Gの各文章を古いものから順に並べるとき、4番目にくる文章を、A~Gの記号で答えなさい。

4. 次の文章を読み、下の問(1)~(6)に答えなさい。

1914年、^(a)日本はイギリスとの同盟関係を理由にドイツに宣戦布告し、第一次世界大戦に連合国側として参戦した。この大戦は連合国側の勝利で終わり、1919年には講和会議が開かれ、ベルサイユ条約が結ばれた。この講和会議でのアメリカ大統領ウィルソンの提案を基にして、^(b)1920年、国際紛争を平和的に解決する世界初の組織である^(c)国際連盟が設立された。

国内では、1918年、**1**が日本で初めて本格的な政党内閣を組織し、「平民宰相」と呼ばれて、政党政治の発展に大きく寄与した。ところが1932年には、海軍青年将校らが犬養毅首相を暗殺する**2**事件が起こり、政党政治は大きな打撃を受けた。その後は軍部が政治に深く関与するようになり、日本は次第に国際社会で孤立していった。

^(d)第二次世界大戦後、日本は連合国軍の占領下に置かれ、**3**を最高司令官とするGHQによって民主化が進められた。中国では、中国共産党が中国国民党との内戦を勝ち抜き、1949年に**4**を国家主席として中華人民共和国が成立し、やがて社会主義国の建設を目指すようになった。大戦後、アメリカを中心とする資本主義諸国と、ソ連を中心とする社会主義諸国が激しく対立した。直接には戦火を交えないこの対立は、冷戦と呼ばれた。1949年にはアメリカや西欧諸国が、軍事同盟である**5**を結成した。これに対し、ソ連も軍事同盟を結び、社会主義諸国の団結を強めた。

(1) 文章中の空欄**1**～**5**にあてはまる語句を答えなさい。ただし、**5**はアルファベットで答えなさい。

(2) 下線部(a)について、日英同盟は1902年に結ばれた。次の①～④の文は、この前後にとられた明治時代の外交政策について述べた文である。時代の古いものから順に並んでいるものを、下の(A)～(K)から一つ選び、記号で答えなさい。

- ① 小村寿太郎外務大臣のもと、日本は関税自主権を完全に回復した。
- ② 岩倉具視を代表に、約50名の使節団をアメリカ合衆国やヨーロッパ諸国に送った。
- ③ 陸奥宗光外務大臣のもと、日英通商航海条約が結ばれた。
- ④ 日清戦争の講和条約である下関条約が結ばれた。

(A) ①→③→④→② (イ) ①→④→③→② (ウ) ②→③→④→①

(E) ②→④→③→① (オ) ③→①→④→② (カ) ③→④→①→②

(キ) ④→③→①→② (ク) ④→①→③→②

- (3) 下線部(b)について、1920年代の日本にかかわるできごとについて述べた文として**誤っているもの**を、下の(ア)~(エ)から一つ選び、記号で答えなさい。
- (ア) 北京郊外の盧溝橋で日中両軍が衝突した事件をきっかけに、日中戦争が始まった。
 (イ) 関東大震災が起き、関東を中心に多くの死傷者を出した。
 (ウ) ラジオ放送が開始され、日本放送協会（NHK）が設立された。
 (エ) 25歳以上のすべての男性に選挙権を認める普通選挙法が制定された。
- (4) 下線部(c)の本部はどこにおかれたか。下の(ア)~(エ)から一つ選び、記号で答えなさい。
- (ア) ニューヨーク (イ) ワシントン (ウ) ジュネーブ (エ) ロンドン
- (5) 下線部(d)について、次の①~④の文は、第二次世界大戦中に発生した出来事である。時代の古いものから順に並んでいるものを、下の(ア)~(ク)から一つ選び、記号で答えなさい。
- ① 日本は、ソ連と日ソ中立条約を結んだ。
 ② 原子爆弾が長崎に投下された。
 ③ イタリアは、ムッソリーニの失脚後、降伏した。
 ④ 日本は、ハワイの真珠湾にあるアメリカ海軍基地を攻撃した。
- (ア) ①→③→④→② (イ) ①→④→③→② (ウ) ②→③→④→①
 (エ) ②→④→③→① (オ) ③→①→④→② (カ) ③→④→①→②
 (キ) ④→③→①→② (ク) ④→①→③→②
- (6) 第二次世界大戦後の日本について述べた文として**誤っているもの**を、下の(ア)~(エ)から一つ選び、記号で答えなさい。
- (ア) 鳩山一郎内閣のとき、日ソ共同宣言が調印された。
 (イ) 佐藤栄作内閣のとき、沖縄が返還された。
 (ウ) 田中角栄内閣のとき、日中平和友好条約が結ばれた。
 (エ) 池田勇人内閣のとき、「所得倍増」政策が打ち出された。

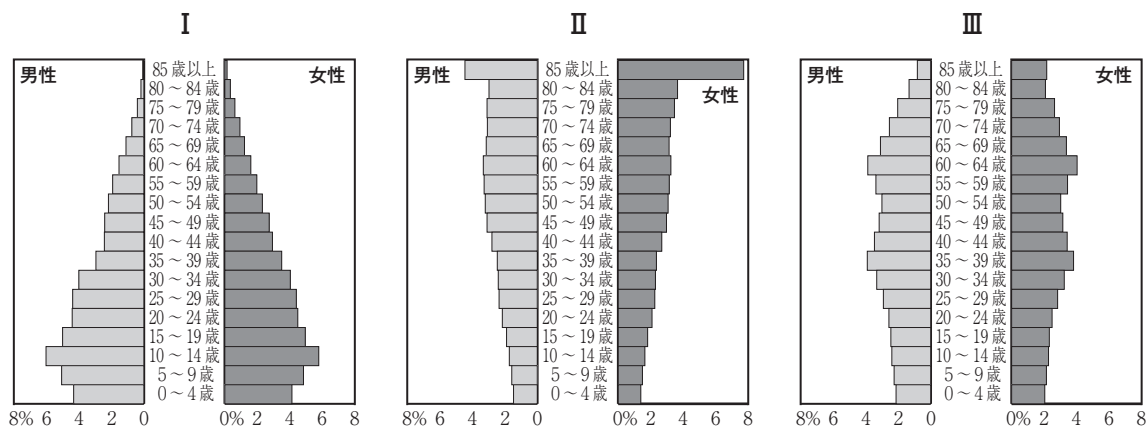
5. 次の文章を読み、下の問(1)~(9)に答えなさい。

第二次世界大戦の終結から80年を経過した現代の日本では社会の急速な変化が見られ、それにともないさまざまな新たな課題に直面している。例えば、^(a)人口構成の変化があげられる。社会保障費は年々増加し、^(b)社会保障に関する給付と負担の間の不均衡は一層強くなっている。また、労働人口の減少や経済活動の縮小が予想されている。特に^(c)地方では人口減少にともない、^(d)地方自治が今まで通りに機能しなくなる可能性が指摘されている。

また、情報通信技術()の発達によって、社会の中で情報の果たす役割が増している。ネットワークを通じて蓄積されているほう大なデジタル情報である が企業活動に活用されたり、SNSは日常生活に浸透し、例えば^(e)選挙でも活用され、その結果に大きな影響力を持つようになってきている。私たちには、情報を正しく判断して利用・活用する力である情報 を身につけていくことが求められている。

グローバル化や国際交流も進展しており、多文化共生の社会づくりも求められる。また、国内でも^(f)共生社会の実現を目指した取り組みが進んでいる。

- (1) 下線部(a)について、次のⅠ～Ⅲのグラフは、日本における1960年、2010年、2060年（推計）のいずれかの年の人口ピラミッドである。また、下のX～Zは、グラフⅠ～Ⅲの人口ピラミッドのいずれかの特徴を述べた文である。2060年の人口ピラミッドとその特徴を述べた文の組み合わせとして正しいものを、下の(ア)～(ケ)から一つ選び、記号で答えなさい。



1960年、2010年は『国勢調査』、2060年は国立社会保障・人口問題研究所「日本の将来推計人口」より作成。

X 3つのグラフの中で、総人口における子どもの比率が最も多い。

Y 3つのグラフの中で、総人口における高齢者の比率が最も高い。

Z ベビーブームが2回起きている。

(ア) Ⅰ — X (イ) Ⅰ — Y (ウ) Ⅰ — Z

(エ) Ⅱ — X (オ) Ⅱ — Y (カ) Ⅱ — Z

(キ) Ⅲ — X (ク) Ⅲ — Y (ケ) Ⅲ — Z

- (2) 下線部(b)について、日本の現在の社会保障の給付費は医療、介護、年金などに使われている。その割合を高い順に左から右に並べたものとして正しいものを、下の(ア)～(カ)から一つ選び、記号で答えなさい。

(ア) 医療 — 介護 — 年金 (イ) 医療 — 年金 — 介護

(ウ) 介護 — 医療 — 年金 (エ) 介護 — 年金 — 医療

(オ) 年金 — 介護 — 医療 (カ) 年金 — 医療 — 介護

(3) 下線部(c)について、東京への一極集中の改善をはかるために省庁の地方移転の必要性が指摘されている。2023年に京都に移転された省庁は何か。下の(ア)~(エ)から一つ選び、記号で答えなさい。

(ア) こども家庭庁 (イ) 消費者庁 (ウ) 文化庁 (エ) スポーツ庁

(4) 下線部(d)では、直接民主制の要素を取り入れた直接請求権が住民に認められている。有権者数6万人の都市で直接請求が行われた場合の文として、正しいものの組み合わせを、下の(ア)~(オ)から一つ選び、記号で答えなさい。

- ① 条例の制定を求める場合は有権者の2000人以上の署名が必要になる。
- ② 議会の解散を求める場合は有権者の1200人以上の署名が必要になる。
- ③ 首長の解職を求める場合は有権者の20000人以上の署名が必要になる。
- ④ 監査の請求を求める場合は有権者の1200人以上の署名が必要になる。
- ⑤ 副知事など主要な職員の解職を求める場合は有権者の12000人以上の署名が必要になる。

(ア) ①・② (イ) ①・③ (ウ) ②・⑤ (エ) ③・④ (オ) ④・⑤

(5) 文章中の空欄 にあてはまる語句を**アルファベット3字**で答えなさい。

(6) 文章中の空欄 にあてはまる語句を**カタカナ**で答えなさい。

(7) 下線部(e)について、衆議院議員の選挙について述べた文として正しいものを、下の(ア)~(エ)から一つ選び、記号で答えなさい。

- (ア) 小選挙区で1名ないし2名の当選者を決める。
- (イ) 1つまたは2つの都道府県を単位とした選挙区制度で当選者を決める。
- (ウ) 全国を1つの単位とした比例代表制で当選者を決める。
- (エ) 全国を11のブロックに分けた比例代表制で当選者を決める。

(8) 文章中の空欄 にあてはまる語句を**カタカナ**で答えなさい。

(9) 下線部(f)について、共生社会の実現に向けて制定された法律について述べた、次の①・②の文の正誤をそれぞれ判断し、その組み合わせとして正しいものを、下の(ア)~(エ)から一つ選び、記号で答えなさい。

① 障害者差別解消法が制定され、障がいを理由にした就職差別などは禁止された。

② 男女共同参画社会基本法が制定され、夫婦別姓が法的に認められた。

(ア) ①-正 ②-正 (イ) ①-正 ②-誤

(ウ) ①-誤 ②-正 (エ) ①-誤 ②-誤

6. 次の文章を読み、下の問(1)~(6)に答えなさい。

現在の日本は資本主義の体制をとっている。資本主義は私企業を中心となっている経済体制で、(a)市場を通して企業や家計の間や企業間で商品の売買が行われている。

第二次世界大戦後の日本は、(b)復興から高度経済成長をへて先進国の仲間入りをした。その後の石油危機やバブル経済とその崩壊をへて現代にいたっている。

現代の日本においては経済の安定のために政府の果たす役割が大きくなっている。政府は景気の安定化や経済成長をめざして、(c)歳入や歳出を調整する財政政策を実施している。これは、唯一の発券銀行である 1 が行う金融政策とともに、経済政策の大きな柱となっている。また、社会資本の整備や公共サービスの提供などの資源配分も政府の重要な役割である。さらに、(d)所得の再配分などによって国民の生活水準の安定をはかっている。市場での公正な 2 競争を確保し、(e)消費者の権利を守ったり、国際的な 2 貿易の実現など政府の役割は広範囲におよんでいる。

(1) 文章中の空欄 1 ~ 2 にあてはまる語句を答えなさい。

(2) 下線部(a)について、商品の価格は市場を通じて決定されていく。一般的に均衡価格が低くなるのはどのようなときか。最も適切なものを下の(ア)~(ウ)から一つ選び、記号で答えなさい。なお、**すべて誤り**であれば(エ)と答えなさい。

- (ア) 原油価格の値上がりにより、多くの商品の製造費が増加した。
- (イ) 天候に恵まれ、米が豊作になった。
- (ウ) 猛暑のために乳牛からの牛乳の生産量が減った。

(3) 下線部(b)について、日本では高度経済成長期に公害問題が深刻化した。公害について述べた次の①~③の文の正誤をそれぞれ判断し、その組み合わせとして正しいものを、下の(ア)~(カ)から一つ選び、記号で答えなさい。

- ① 四大公害には、三重県の四日市ぜんそく、新潟県のイタイイタイ病などがある。
- ② 四大公害訴訟はすべて原告側が勝訴した。
- ③ 1960年代の公害問題の深刻化を受けて環境基本法が制定された。

- (ア) ①：正 ②：正 ③：誤 (イ) ①：正 ②：誤 ③：正
- (ウ) ①：正 ②：誤 ③：誤 (エ) ①：誤 ②：正 ③：正
- (オ) ①：誤 ②：正 ③：誤 (カ) ①：誤 ②：誤 ③：正

(4) 下線部(c)について、国の歳入の大部分を占めているのが税金である。次の①～⑤の中から国に納める間接税の組み合わせとして正しいものを、下の(ア)～(オ)から一つ選び、記号で答えなさい。

- ① ゴルフ場利用税 ② 酒税 ③ 自動車税
④ 消費税 ⑤ 相続税
(ア) ①・③ (イ) ①・⑤ (ウ) ②・④ (エ) ②・⑤ (オ) ③・④

(5) 下線部(d)について説明した文として**最も適切でないもの**を、下の(ア)～(エ)から一つ選び、記号で答えなさい。

- (ア) 病気になったときに、少ない自己負担で医療を受けられるようにする。
(イ) 失業した人に手当を支給し、国が生活を保障する。
(ウ) 生活に必要な収入を得るために、自分が選んだ企業に就職する。
(エ) 所得が高くなるほど税率が高くなる。

(6) 下線部(e)について、2004年に消費者の権利の尊重とその自立を支援することを目的に定められた法律は何か。下の(ア)～(エ)から一つ選び、記号で答えなさい。

- (ア) 消費者保護基本法 (イ) 製造物責任法
(ウ) 消費者契約法 (エ) 消費者基本法

このページは白紙です。

このページは白紙です。

