



京都成章高等学校
令和5年度 入学試験問題
社 会

受 験 番 号	氏 名

1. アジアに関する下の問(1)~(5)に答えなさい。

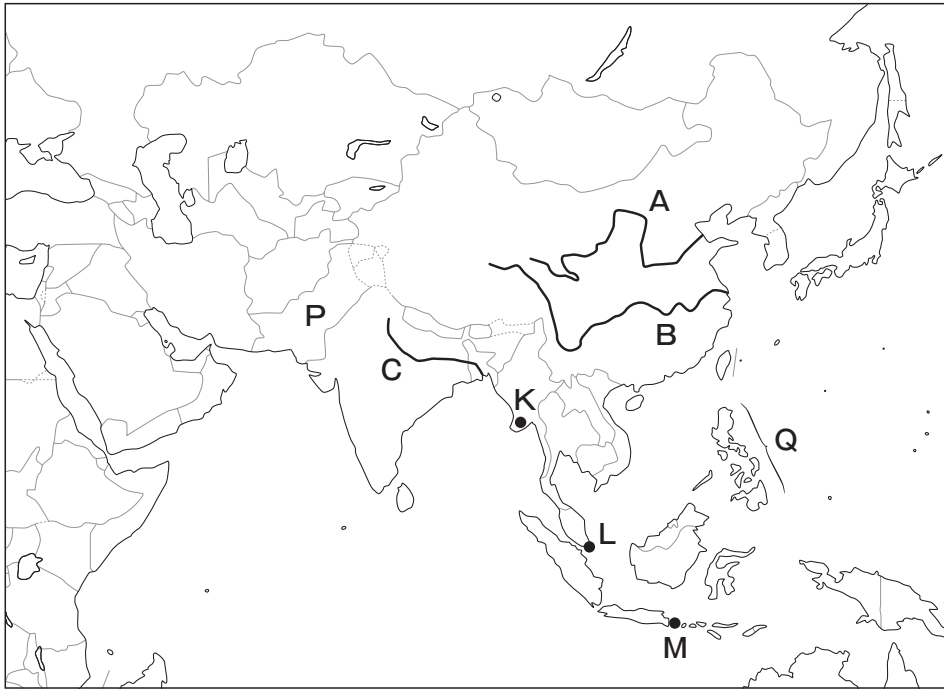
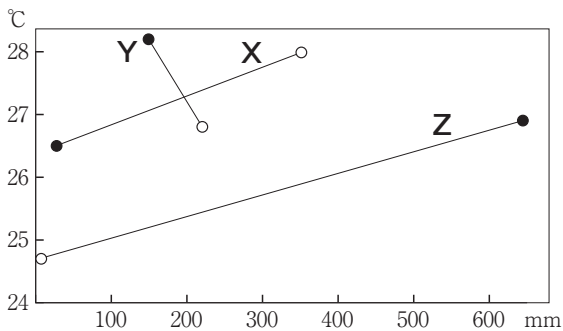


図 1

(1) 図 1 中に示したA~Cの河川名の正しい組み合わせを、右の(ア)~(エ)から一つ選び、記号で答えなさい。

	A	B	C
(ア)	長江	黄河	インダス
(イ)	長江	黄河	ガンジス
(ウ)	黄河	長江	インダス
(エ)	黄河	長江	ガンジス

(2) 次のグラフ中のX~Zは、図 1 中のK~Mのいずれかの都市における1月と7月の平均気温と降水量を示したものである。X~Zと都市K~Mの正しい組み合わせを、下の(ア)~(カ)から一つ選び、記号で答えなさい。



○:1月、●:7月 気象庁ホームページのデータより作成

	X	Y	Z
(ア)	K	L	M
(イ)	K	M	L
(ウ)	L	K	M
(エ)	L	M	K
(オ)	M	K	L
(カ)	M	L	K

- (3) 図 1 中の P 国と Q 国で最も多くの人々に信仰されている宗教を、下の(ア)～(オ)からそれぞれ一つずつ選び、記号で答えなさい。
- (ア) キリスト教 (イ) イスラム教 (ウ) ヒンドゥー教 (エ) 仏教 (オ) ユダヤ教
- (4) 中国について述べた文として**適当でないもの**を、下の(ア)～(エ)から一つ選び、記号で答えなさい。
- (ア) シェンチェン（深圳）などに設けられた経済特区に外国企業を受け入れている。
- (イ) 沿岸部と内陸部の経済格差の拡大が課題となっている。
- (ウ) 急速な人口の増加をおさえるために一人っ子政策が継続されている。
- (エ) 首都のペキン（北京）では大気汚染が深刻な問題となっている。
- (5) 東南アジアについて述べた文として**適当でないもの**を、下の(ア)～(エ)から一つ選び、記号で答えなさい。
- (ア) 東南アジアで最も早く工業化が進んだ国はマレーシアである。
- (イ) ASEANは加盟国間の貿易の関税をなくすなど、結びつきを強めている。
- (ウ) 植物油の原料になる油やしの栽培地域がインドネシアやマレーシアで拡大している。
- (エ) インドネシアの海岸部では、マングローブを切り開いてエビの養殖池が造られている。

2. 日本地理に関する下の問(1)~(12)に答えなさい。



図2

(1) 図2中のAの山地、BとCの高地の名称の正しい組み合わせを、右の(ア)~(カ)から一つ選び、記号で答えなさい。

	A	B	C
(ア)	北上	北見	阿武隈
(イ)	北上	阿武隈	北見
(ウ)	北見	北上	阿武隈
(エ)	北見	阿武隈	北上
(オ)	阿武隈	北上	北見
(カ)	阿武隈	北見	北上

(2) 図2中のDの山の名称を、下の(ア)~(エ)から一つ選び、記号で答えなさい。

(ア) 大雪山 (イ) 有珠山 (ウ) 御嶽山 (エ) 浅間山

(3) 巨大地震を引き起こす海溝やトラフなど、海底にあるプレートの境界から離れており、津波による被害を最も受けにくいと考えられる県を、下の(ア)~(エ)から一つ選び、記号で答えなさい。

(ア) 神奈川県 (イ) 静岡県 (ウ) 和歌山県 (エ) 長崎県

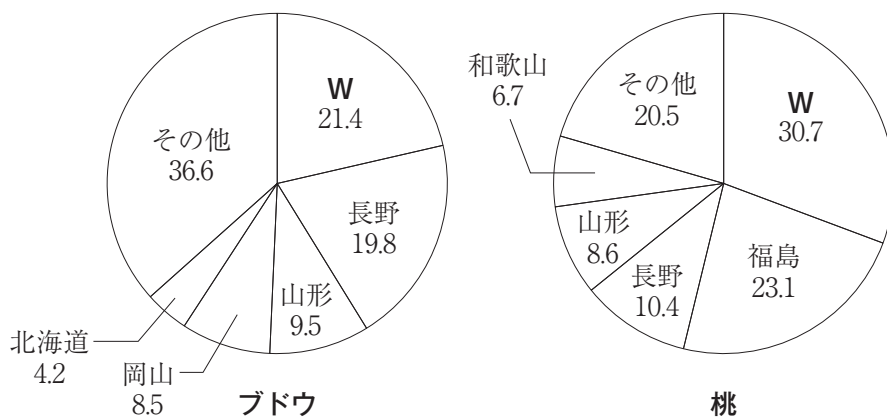
(4) 次の表のX~Zは、図2中に示した福井市、松本市、水戸市のいずれかの都市における1月の平均気温と12月・1月・2月の3か月間の降水量を示したものである。表中のX~Zにあてはまる都市の正しい組み合わせを、下の(ア)~(カ)から一つ選び、記号で答えなさい。

	1月の平均 気温(℃)	12月~2月の 総降水量(mm)
X	3.3	157.9
Y	3.2	756.6
Z	-0.3	111.0

気象庁ホームページのデータより作成

	X	Y	Z
(ア)	福井市	松本市	水戸市
(イ)	福井市	水戸市	松本市
(ウ)	松本市	福井市	水戸市
(エ)	松本市	水戸市	福井市
(オ)	水戸市	福井市	松本市
(カ)	水戸市	松本市	福井市

(5) 次の2つの円グラフは、ブドウと桃の都道府県別生産割合の上位5県を示したものである。グラフ中のWにあてはまる県は図2中のE~Hのいずれかである。Wにあてはまる県を、下の(ア)~(エ)から一つ選び、記号で答えなさい。



単位：% 統計年次は2020年 「データでみる県勢 2022年度版」より作成

(ア) E (イ) F (ウ) G (エ) H

- (6) 農業と林業について述べた文として**適当でないもの**を、下の(ア)~(エ)から一つ選び、記号で答えなさい。
- (ア) 北海道の石狩平野は畑作がさかんであり、十勝平野は日本有数の米の生産地になっている。
 - (イ) 長野県の八ヶ岳のふもとの高原では、涼しい気候を生かして夏にレタスを栽培している。
 - (ウ) 愛知県の渥美半島には豊川用水が引かれ、野菜の栽培がさかんでいる。
 - (エ) 林業がさかんな奈良県で生産される吉野すぎは高品質な木材として知られている。
- (7) 養殖業について述べた文として**適当でないもの**を、下の(ア)~(エ)から一つ選び、記号で答えなさい。
- (ア) 愛媛県南部の沿岸ではたいの養殖がさかんである。
 - (イ) 岩手県南部から宮城県北部の沿岸ではわかめの養殖がさかんである。
 - (ウ) 北海道の沿岸ではぶりの養殖がさかんである。
 - (エ) 三重県の志摩半島の沿岸では真珠の養殖がさかんである。
- (8) 工業地域について述べた文として**適当でないもの**を、下の(ア)~(エ)から一つ選び、記号で答えなさい。
- (ア) 大阪府の東大阪市には、高い技術力が求められる精密な部品を生産している中小企業がある。
 - (イ) 千葉県東部の太平洋沿岸には石油化学コンビナートが立ち並ぶ京葉工業地域が形成されている。
 - (ウ) 富山県では、アルミニウムをサッシなどに加工する工業がみられる。
 - (エ) 東北地方では、高速道路沿いに工業団地が造られ、工場が誘致されている。
- (9) 都市について述べた文として**適当でないもの**を、下の(ア)~(エ)から一つ選び、記号で答えなさい。
- (ア) 大阪府の千里や泉北などのニュータウンでは、住民の少子高齢化や建物の老朽化が課題となっている。
 - (イ) 神戸市では、山を削って住宅地をつくり、その土砂でポートアイランドなどの埋立地を造成した。
 - (ウ) 茨城県のつくば市に筑波研究学園都市が建設され、鉄道の開通とともに住宅地開発が進んでいる。
 - (エ) 千葉市に「みなとみらい21」が建設されるなど、東京に集中する都市機能の分散が進められている。

- (10) 次の表は、自動車工場が立地する群馬^{おおいずみ}県大泉町、千葉県北西部の流山^{ながれやま}市、東京都で最も西に位置する奥多摩町、都心に近い東京都中央区のいずれかの市区町における、人口増減率、老年人口率、人口性比（女性 100 人に対する男性の人口）、外国人人口割合、昼夜間人口比率（夜間人口 100 人に対する昼間人口）を示したものである。千葉県流山市にあてはまるものを、表中の(ア)~(エ)から一つ選び、記号で答えなさい。

	人口増減率	老年人口率	人口性比	外国人人口割合	昼夜間人口比率
(ア)	19.8%	14.6%	91.7	4.7%	456.1
(イ)	14.6%	23.7%	97.1	1.6%	74.9
(ウ)	2.2%	22.7%	112.5	18.4%	100.4
(エ)	-9.2%	50.8%	101.2	1.0%	108.0

統計年次は人口増減率が 2015 ~ 2020 年の 5 年間、その他は 2020 年「国勢調査」より作成

- (11) 次の S ~ U は、**図 2** に示した P ~ R のいずれかの県で行われている祭りについて述べた文である。S ~ U にあてはまる県の正しい組み合わせを、下の(ア)~(カ)から一つ選び、記号で答えなさい。

S : 本来は豊作を願う祭りだが、近年は商店街の振興を目的とした七夕祭り。

T : 米俵に見立てた提灯^{ちようちん}を稲穂の形にかたどった竿灯^{かんとう}を持って練り歩き、米の豊作を願う祭り。

U : 明かりを灯した巨大なねぶた（ねぶた）を山車^{だし}に乗せて練り歩く祭り。

	S	T	U
(ア)	P	Q	R
(イ)	P	R	Q
(ウ)	Q	P	R
(エ)	Q	R	P
(オ)	R	P	Q
(カ)	R	Q	P

(12) 次の4つの地図は、2018年3月における新千歳空港(北海道)、大阪国際空港(大阪府・兵庫県)、中部国際空港(愛知県)、福岡空港の4つの空港から就航している国内線の便数(1日あたり)が多い上位9空港と出発空港を示したものである。福岡空港から就航している空港を示した地図を、下の(ア)~(エ)から一つ選び、記号で答えなさい。

(ア)



(イ)



(ウ)



(エ)



●：就航している空港と出発空港

〔JTB時刻表2018年3月号〕より作成

3. 次のA～Fの各文章を読み、下の問(1)～(7)に答えなさい。

- A ^(a)天智天皇の死後、天皇の位をめぐる争いである 1 の乱が発生した。勝利した大海人皇子は天武天皇として即位して、天皇の力を強め、中央集権的な体制を形成した。
- B 経済の発達にともなう支出の増大などのため、幕府や藩は深刻な財政難におちいり、その立て直しのために年貢を増やしたりした。大きな飢饉が発生したときには、農村では大規模な百姓一揆が、都市では激しい 2 が発生した。
- C ^(b)後鳥羽上皇は、幕府を倒そうとして 3 の乱を起こした。しかし、幕府の軍に大敗し、後鳥羽上皇は隠岐に流された。
- D この時代の中ごろから、各地の治安の乱れを背景にして大きな武士団が成立した。 4 は、一族内の争いから最終的に反乱を起こし、一時は関東の大半を支配下において新皇と称した。
- E 和人が北海道の南部に進出し、各地に^{たて}館とよばれる根拠地をつくり、アイヌの人々と交易を行った。しかし、こうした和人の圧迫に反発したアイヌの人々は、 5 を指導者として和人と衝突した。
- F 大陸から伝わった稲作がさかんになった。豊かな土地や水の利用をめぐる争いが発生し、周辺の村をまとめるクニが成立した。金属器も大陸から伝来した。銅剣・銅矛や 6 といった青銅器は、おもに祭器として使用された。 6 には、漁や脱穀の様子なども刻まれている。

(1) 文章中の空欄 1 ～ 6 にあてはまる語句を答えなさい。

(2) 下線部(a)の、皇太子の時代から天皇在位中のできごとについて述べた文として誤っているものを、下の(ア)～(エ)から一つ選び、記号で答えなさい。

- (ア) 近江国の大津に都が置かれた。
- (イ) 最初の全国的な戸籍が作成された。
- (ウ) 大宝律令が制定された。
- (エ) 白村江の戦いで敗北した。

(3) Bの時代のできごとについて述べた文として正しいものを、下の(ア)～(エ)から一つ選び、記号で答えなさい。

- (ア) 豊臣秀吉が刀狩令を發布し、百姓が武器を持つことを禁止した。
- (イ) 徳川吉宗が参勤交代の制度を導入し、大名への統制を強めた。
- (ウ) 分国法が制定され、領内の武士や農民らを厳しく統制しようとした。
- (エ) 松平定信が、旗本・御家人の借金を帳消しにする法令を發布した。

(4) 下線部**(b)**の命を受けて作成されたものは何か。下の**(ア)~(エ)**から一つ選び、記号で答えなさい。

- (ア)** 『お伽草子』 **(イ)** 『新古今和歌集』
(ウ) 『万葉集』 **(エ)** 『古今和歌集』

(5) **D**の時代のできごとについて述べた文として正しいものを、下の**(ア)~(エ)**から一つ選び、記号で答えなさい。

- (ア)** 坂上田村麻呂が征夷大將軍に任命され、東北地方への支配を広げた。
(イ) 権威の象徴として前方後円墳が造られた。
(ウ) 中国との間に勘合貿易が行われた。
(エ) 『古事記』や『日本書紀』がつくられた。

(6) 次の①・②の史料で述べられているできごとは、**A~F**のどの時代のことか。下の**(ア)~(ケ)**から正しい組み合わせのものを一つ選び、記号で答えなさい。

① 「倭にはもともと男の王がいたが、その後国内が乱れたので女性の卑弥呼を王とした。」
(部分要約)

② 「正長元年以前の借金は神戸四か郷^{かんべしかこう}では帳消しにする。」(現代語訳)

- (ア)** ①-A ②-B **(イ)** ①-A ②-C **(ウ)** ①-B ②-F
(エ) ①-C ②-D **(オ)** ①-D ②-B **(カ)** ①-D ②-E
(キ) ①-E ②-A **(ク)** ①-F ②-C **(ケ)** ①-F ②-E

(7) **A~F**の各文章を古いものから順に並べるとき、**4番目**にくる文章を、**A~F**の記号で答えなさい。

4. 次の文章を読み、下の問(1)～(6)に答えなさい。

ペリー来航を受けて日本は開国した。1858年には [1] 条約を結び、^(a)諸外国との本格的な貿易が始まった。しかし、こうした開国時に欧米諸国と結ばれた条約は、日本に不利な不平等条約であり、^(b)明治政府は条約改正を外交の最大の課題とした。

条約改正を達成する前後、近代化に成果をあげた日本は帝国主義的な傾向を強めて、海外に植民地の獲得をめざすようになった。その最初の本格的な戦争が、1894年に勃発した日清戦争で、勝利した日本は清との間に [2] 条約を結んだ。しかし、この条約を結んだのちロシアとの関係が悪化し、1904年に日露戦争が勃発した。勝利した日本は列強の一国としての地位を確立した。

この後、列強の対立はさらに激化し、1914年に第一次世界大戦が勃発した。^(c)この戦争は1918年に終結し、翌1919年、連合国とドイツの間に [3] 条約が調印された。この後1920年代は、^(d)国際連盟が設立されたり、1921年から翌年にかけての [4] 会議で、 [4] 海軍軍縮条約が結ばれるなど国際協調の気運が高まった。

しかし、1929年にアメリカから始まった世界恐慌によって国際協調の機運はくずれていった。1920年代からのあいにく恐慌に苦しんだ日本は、1931年に始まった満州事変以後、植民地の拡大をめざして断続的な戦争の時代に入った。国内では、^(e)戦争遂行のため軍国主義的な体制を確立していった。1939年にヨーロッパで第二次世界大戦が勃発すると、1940年には [5] 同盟を結び、ファシズム陣営との結束を強めた。また東南アジアへの日本の勢力の拡大は、アメリカなどとの対立を深め、結局1941年に太平洋戦争が勃発した。

(1) 文章中の空欄 [1] ～ [5] にあてはまる語句を答えなさい。

(2) 下線部(a)について、貿易が始まった1860年代の状況について述べた文として正しいものを、下の(ア)～(エ)から一つ選び、記号で答えなさい。

- (ア) 生糸の生産を増やすため、富岡製糸場が設立された。
- (イ) 大阪紡績会社が設立され、綿糸の輸出量が輸入量を上回った。
- (ウ) 外国との金銀の交換比率の違いから、金が大量に国外に流出した。
- (エ) 東京の新橋と最大の貿易港である横浜の間に鉄道が開通した。

(3) 下線部(b)の、条約改正交渉について述べた次の①・②の文の正誤をそれぞれ判断し、その組み合わせとして正しいものを、下の(ア)～(エ)から一つ選び、記号で答えなさい。

- ① 小村寿太郎外相は鹿鳴館を舞台とした欧化政策によって関税自主権の回復をめざした。
- ② 陸奥宗光外相は日英同盟を結び、領事裁判権の撤廃に成功した。

- (ア) ① - 正 ② - 正 (イ) ① - 正 ② - 誤
- (ウ) ① - 誤 ② - 正 (エ) ① - 誤 ② - 誤

(4) 下線部(c)について、第一次世界大戦終結後におきたできごとについて述べた文として誤っているものを、下の(ア)~(エ)から一つ選び、記号で答えなさい。

- (ア) 中国で五・四運動が発生し、この運動は中国各地に広まった。
- (イ) ロシア革命が発生し、レーニンが権力を掌握した。
- (ウ) インドでガンディーを中心に非暴力・不服従運動が展開された。
- (エ) 民族自決の名のもとに、東ヨーロッパに多くの独立国家が誕生した。

(5) 下線部(d)の設立を提唱したアメリカ大統領はだれか。下の(ア)~(エ)から一つ選び、記号で答えなさい。

- (ア) ウィルソン
- (イ) チャーチル
- (ウ) リンカン
- (エ) ローズベルト

(6) 下線部(e)について、次にあげる①~④は軍国主義的体制の確立に関するものである。時代の古いものから順に並んでいるものを、下の(ア)~(ク)から一つ選び、記号で答えなさい。

- ①小学校が国民学校に改められた。
 - ②国家総動員法が制定された。
 - ③二・二六事件が発生した。
 - ④大政翼賛会が結成された。
- (ア) ①→③→②→④
 - (イ) ①→④→③→②
 - (ウ) ②→①→③→④
 - (エ) ②→③→④→①
 - (オ) ③→②→④→①
 - (カ) ③→④→①→②
 - (キ) ④→①→②→③
 - (ク) ④→②→①→③

5. 次の文章を読み、下の問(1)~(6)に答えなさい。

(a) 人間は生まれながらにして自由かつ平等の権利をもっている。このような考え方は17～18世紀のさまざまな革命によって確立された。しかし、それでも二度にわたる世界大戦が引き起こされてしまい、またファシズムによる自由と人権の抑圧を反省した人々は、人権を保障する取り組みを始めた。

(b) 日本国憲法も立憲主義にもとづいて、国民の人権保障を徹底させるために基本原理として基本的人権の尊重をうたい、さらに平等権・自由権・社会権など個々の権利を規定している。そのうえで、(c)司法・(d)立法・(e)行政からなる三権分立のしくみや、(f)地方自治のあり方が憲法の中で示されている。

- (1) 下線部(a)について、下の文書は人権を保障することをめざしてつくられた文書の一部である。その文書を下の(ア)~(エ)から一つ選び、記号で答えなさい。

第1条 すべての人間は、生れながらにして自由であり、かつ、尊厳と権利とについて平等である。人間は、理性と良心とを授けられており、互いに同胞の精神をもって行動しなければならない。

- (ア) 権利章典 (イ) アメリカ独立宣言
(ウ) 世界人権宣言 (エ) フランス人権宣言

- (2) 下線部(b)について、下の文書は日本国憲法の一部である。空欄 に共通してあてはまる語句を答えなさい。

第12条 この憲法が国民に保障する自由及び権利は、国民の不断の努力によつて、これを保持しなければならない。又、国民は、これを濫用してはならないのであつて、常に のためにこれを利用する責任を負ふ。

第13条 すべての国民は、個人として尊重される。生命、自由及び幸福追求に対する国民の権利については、 に反しない限り、立法その他の国政の上で、最大の尊重を必要とする。

- (3) 下線部(c)について、最高裁判所で憲法違反の判決が出たものを、下の(ア)~(エ)から一つ選び、記号で答えなさい。

- (ア) 製造物による被害の責任を生産者に負わせること。
(イ) 海外に住む日本人の選挙権が制限されること。
(ウ) 自衛隊が海外に派遣されて活動すること。
(エ) 1週間の労働時間に制限が加えられること。

6. 次の文章を読み、下の問(1)~(7)に答えなさい。

わが国では他の多くの国々のように資本主義経済体制がとられている。その特質の一つ目は、資本家が^(a)労働者を雇って財やサービスの生産を行うことである。二つ目は市場経済における自由競争である。この仕組みによって、^(b)生産量と供給量の関係から価格が変化することになる。三つ目の特質は、利潤を得るために^(c)企業が設立され、生産活動が営まれることである。

しかし、資本主義経済が発達すると^(d)市場の独占化や激しい^(e)景気変動などの問題が発生するようになってきた。現代の資本主義経済では、^(f)利潤を求める私的な経済部門と、社会的利益を目的とする公的な経済部門が並び立っている。このような経済では、^(g)政府の役割と存在感が大きくなり、さまざまな課題も発生している。

- (1) 下線部(a)について、労働者を雇う際の女性差別をなくし、職場での男女平等を定め、1985年に制定された法律を何というか。答えなさい。
- (2) 下線部(b)について、現在の日本で起こる可能性のある一般的な経済の動きとして**適当でないもの**を、下の(ア)~(エ)から一つ選び、記号で答えなさい。
- (ア) さんまが豊漁となり、価格が下がった。
 - (イ) エアコン使用で夏の電力消費が増えた結果、電気料金が下がった。
 - (ウ) りんごが大雨のため不作となり、価格が上がった。
 - (エ) テレビでお茶が健康によいと紹介された結果、価格が上がった。
- (3) 下線部(c)の中で数の多い株式会社についての説明として**適当でないもの**を、下の(ア)~(エ)から一つ選び、記号で答えなさい。
- (ア) 株式会社が倒産したとき、株主は出資額を超えて責任を負わなければならない。
 - (イ) 株主は、株主総会などを通じて経営の基本方針に意見を述べることができる。
 - (ウ) 発行された株式は人々の間で売買されることもある。
 - (エ) 株主は、会社の利潤の一部を配当として受けとることができる。
- (4) 下線部(d)をふせぐために、独占禁止法に基づいて、企業の自由な競争を維持し、消費者の利益を守ろうとしている組織を何というか。答えなさい。

(5) 下線部(e)にかかわることがらの一般的な説明として最も適当なものを、下の(ア)~(エ)から一つ選び、記号で答えなさい。

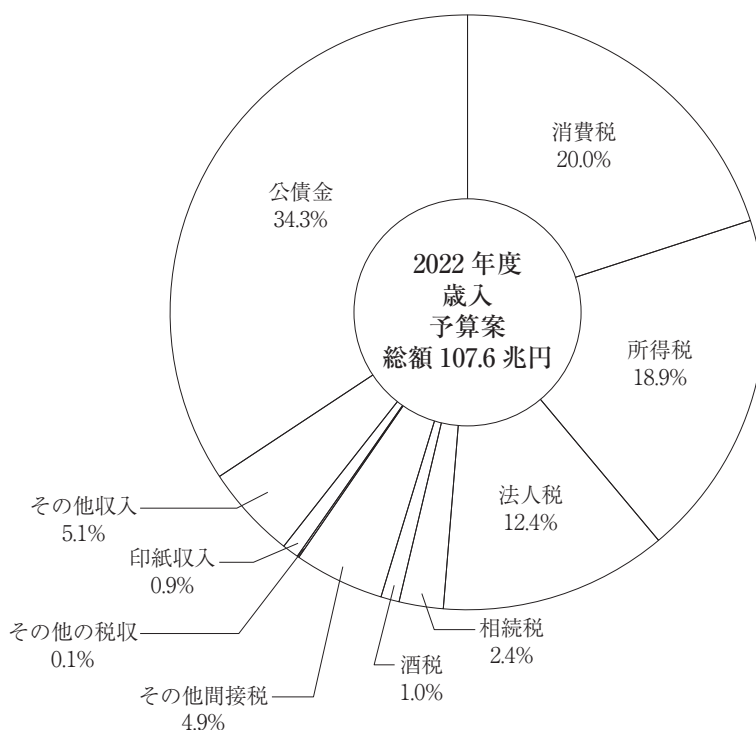
- (ア) 好況期には雇用が縮小する傾向がある。
- (イ) 不況期には工場の生産量が拡大する傾向がある。
- (ウ) 好況期には賃金が下降する傾向がある。
- (エ) 不況期には失業者が増加する傾向がある。

(6) 下線部(f)の結果、環境への配慮を行わず、公害が発生してしまったことがあった。日本でも政府が中心となって対策が行われたが、次の①~③の環境に関することがらを、古い出来事から正しく並べたものとして最も適当なものを、下の(ア)~(カ)から一つ選び、記号で答えなさい。

- ① 環境基本法制定 ② 公害対策基本法制定 ③ 環境庁発足
- (ア) ①→②→③ (イ) ①→③→②
 - (ウ) ②→①→③ (エ) ②→③→①
 - (オ) ③→①→② (カ) ③→②→①

(7) 下線部(8)について、次の問 (i)・(ii) に答えなさい。

(i) 次のグラフは政府の収入である、2022年度の日本の歳入（予算）のグラフである。そのグラフを読み取った文として正しいものを、下の(ア)～(エ)のうちから一つ選び、記号で答えなさい。



(財務省『日本の財政関係資料 令和4年4月』より作成)

- (ア) 間接税による歳入は直接税による歳入を上回っている。
 (イ) 租税・印紙収入の合計は総額 107.6 兆円の半分以下である。
 (ウ) 国の借金である公債金による歳入の割合は、全体の4分の1以下におさえられている。
 (エ) 税別の歳入の項目では、消費税が最も大きな割合を占めている。

(ii) 政府が大きな役割を果たしている社会保障制度が日本でも整備されている。現在の日本の社会保障の四つの柱として**適当でないもの**を、下の(ア)～(エ)から一つ選び、記号で答えなさい。

- (ア) 公衆衛生 (イ) 公的扶助 (ウ) 終身雇用 (エ) 社会福祉